

Время выполнения 90 минут.

1. Выберите правильный ответ. Ответ запишите в таблицу. 1 балл за каждый правильный ответ. Всего 10 баллов.

1) Где на территории нашей страны возникли первые города-государства?

А) на Урале; Б) на берегах Волги и Москвы-реки; В) в Северном Причерноморье; Г) на берегах Балтийского моря

2) С именем какого князя связаны присоединение земли вятичей и разгром Хазарского каганата?

А) Рюрика; Б) Олега; В) Игоря; Г) Святослава

3) Деятельность князя Владимира была направлена на

А) укрепление княжеской власти; Б) запрещение контактов с Византией;
В) ведение походов против Хазарского каганата; Г) уравнивание в правах язычников и христиан

4) Кто принимал участие в управлении Древнерусским государством в XI в.?

А) печенеги; Б) дружинники; В) старейшины, возглавлявшие родовые общины; Г) жрецы

5) Древнерусское государство в XI в. было:

А) республикой; Б) империей; В) феодальной монархией; Г) раздробленным

6) Кого в Древней Руси называли холопом?

А) младшего дружинника; Б) полностью зависимого человека; В) крестьянина, обязанного отработать долг; Г) крестьянина – общинника

7) Какое государство подверглось монгольскому завоеванию до Батыева нашествия на Русь?

А) королевство Чехия; Б) королевство Польша; В) королевство Венгрия; Г) Волжская Булгария

8) О чём свидетельствовало большое количество берестяных грамот, найденных археологами в Новгороде?

А) об обилии леса в Новгородской земле; Б) об образовании населения; В) об отсутствии на Руси книг; Г) о развитии ремесла

9) Какой памятник культуры создан в период становления централизованного государства?

А) «Слово о полку Игореве»; Б) Софийский собор в Киеве; В) Грановитая палата в Московском Кремле; Г) церковь Покрова на Нерли

10) Судебник Ивана III отличался от «Русской Правды»:

А) ограничивал право перехода крестьян Юрьевым днём; Б) устанавливал республиканскую форму правления; В) вводил за наиболее тяжкие преступления кровную месть; Г) закреплял неравенство

Ответ:

1	2	3	4	5	6	7	8	9	10
В	Г	А	ВБ	Г	ВБ	Г	Б	В	В

2. Укажите утверждения, которые являются верными («да»), а какие – ложными («нет»). Ответ запишите в таблицу. По 0,5 балла за верный ответ. Всего 5 баллов.

1. Паж – первая ступень воспитания рыцаря, начинавшаяся с 11-13 лет обычно при дворе сеньора.
2. Феодал – владелец наследственного земельного владения - феода.
3. Коммуна – городская община, добившаяся самоуправления.
4. Геральдика – средневековое искусство составления и описания монет.
5. Инкунабулы – печатные издания в Европе, вышедшие с момента изобретения книгопечатания Гутенбергом до 1 января 1501 года.

85

6. Самый древний город Вологодской области – Белозерск.
7. Царьград, Византий и Константинополь – это разные города.
8. Рядовичи – люди, заключившие договор на выполнение определённой работы.
9. Тюфяк - один из ранних типов огнестрельного оружия. Впервые появился в XIV веке.
10. Католическая церковь организовывала крестовые походы только против мусульман.

Ответ:

1	2	3	4	5	6	7	8	9	10
да	да	да	нет	нет	да	нет	да	да	нет

4,5

3. О ком идёт речь? Прочитайте отрывок документа, укажите имя человека, о котором идёт речь в документе.

По 1 баллу за верный ответ. Всего 4 балла.

А) И подплыл к Угорской горе, спрятав своих воинов, и послал к Аскольду и Диру, говоря им, что – де «мы купцы, идём в Греки... Придите к нам, к родичам своим». Когда Аскольд и Дир пришли, выскочили все остальные из ладей... убили Аскольда и Дира.

Б) Житель Мекки. Призывал арабов прекратить вражду и объединиться. Выступал с проповедями, которые записывались его учениками, а позднее составили священную книгу Коран. Стал основателем новой мировой религии и главой Арабского государства.

В) Киевский князь. Близкий родственник многих европейских правителей. Русь под его управлением достигла своего расцвета. При нем начали создавать свод законов Русская Правда.

Г) ...Внес огромный вклад в развитие и укрепление Московского княжества, зачастую используя при этом Золотую Орду: в 1327 г подавил восстание против Чолхана в Твери и получил право сбора дани - «ордынского выхода» со всех русских земель, а затем и ярлык – грамоту на великое владимирское княжение. К Москве были присоединены княжества: Ростовское, Галицкое, Белозерское, Угличское. Это был бережливый хозяин: не тратил деньги зря, но помогал нищим...

Ответ:

- А) Князь Олег
- Б) Мухаммед
- В) Ярослав Мудрый
- Г) Иван Калита

10
10
10
10
48

4. Восстановите правильную хронологическую последовательность событий. Запишите ответ в виде последовательности номеров событий в задании.

За каждую правильную последовательность 2 балла. При одной ошибке – 1 балл, при двух и более ошибках – 0 баллов. Всего за всё задание – 6 баллов.

- А)
1. Договор Олега с Византией
 2. Первое летописное упоминание о Москве
 3. Приглашение варягов-русь во главе с Рюриком на правление
 4. Съезд в г. Любече

Ответ: 3142

- Б)
1. Нашествие хана Батые на Северо-Восточную Русь
 2. Образование Древнерусского государства
 3. Принятие христианства на Руси
 4. Битва на р. Калке

Ответ: 2341

- В)
1. «Стояние» на р. Угре
 2. Сражение у г. Любеча Ярослава со Святополком
 3. Договор Игоря с Византией

4. Поход князя Олега на Царьград

Ответ:

А	Б	В
3142	2341	4321

Жилова 4B

65

5. Расставьте правителей в порядке правления. Ответ запишите в таблицу. По 1 баллу за верный ответ. Всего 8 баллов.

- А) Правление княгини Ольги в Киеве
- Б) Княжение Юрия Даниловича в Москве
- В) Княжение Ярослава Мудрого в Киеве
- Г) Великое княжение во Владимиро-Суздальской земле Всеволода Большое Гнездо
- Д) Княжение Олега в Киеве
- Е) Великое княжение в Киеве Владимира Мономаха
- Ж) Княжение Владимира I Святославича в Киеве
- З) Княжение Игоря в Киеве

Ответ:

1	2	3	4	5	6	7	8
Д	З	А	Ж	Б	Е	Г	В

6. Среди указанных под цифрами пар исторических деятелей найдите тех, кто жил в одно время и был современником. По 1 баллу за верный ответ. Всего 4 балла.

- А) Святослав Игоревич и Мешко
- Б) Иван Калита и Ричард Львиное Сердце
- В) Ярослав Мудрый и Вильгельм Завоеватель
- Г) Ярослав Мудрый и Генрих VII Тюдор
- Д) Игорь Святославич и Ричард Львиное Сердце
- Е) Андрей Рублёв и Ян Гус

Ответ: Д Ж Е В

7. Установите соответствие между именем человека, прославившегося во время нашествия Батыя, и названием города.

Ответ запишите в таблицу, за каждый правильный ответ 1 балл. Всего 4 балла.

Имя	Город
А) Евпатий Коловрат	1) Москва
Б) Филипп Нянька	2) Киев
В) Пётр Ослядюкович	3) Рязань
Г) Воевода Дмитр	4) Владимир

Ответ:

А	Б	В	Г
3	1	4	2

8. Соотнесите родственников (отцов и сыновей).

Ответ запишите в таблицу, за каждый правильный ответ 1 балл. Всего 5 баллов.

Отцы	Сыновья
А) Дмитрий Донской	1) Даниил Московский
Б) Владимир I	2) Всеволод Большое гнездо
В) Святослав	3) Владимир
Г) Александр Невский	4) Василий I
Д) Юрий Долгорукий	5) Ярослав Мудрый

Ответ:

А	Б	В	Г	Д
4	4 5	2	3	1

9. Выберите лишнее понятие из списка. Кратко поясните свой выбор.
До 2 баллов за каждый правильный ответ. Всего за всё задание – 8 баллов.

- А) 907,911, 988
- Б) Князь Игорь, княгиня Ольга, князь Святослав, князь Владимир Мономах.
- В) Рядович, смерд, холоп, закуп.
- Г) Троице-Сергиев монастырь, Спасо-Прилуцкий монастырь, Кирилло-Белозерский монастырь, Ферапонтов монастырь

Ответ:

- А) Лишнее – 988-крещение Руси, а также походы князей. 2✓
- Б) Лишнее – Владимир Мономах, всеотельные правили в древней Руси. 2✓
- В) Лишнее – холоп-полностью зависимый человек. виды холопа 2✓
- Г) Лишнее – Троице-Сергиев монастырь. 2✓

10. По какому историческому критерию образованы ряды.
До 2 баллов за каждый ряд. Всего за ответ 8 баллов.

- А) Олег, Игорь, Ольга, Святослав.
- Б) Правда Ярослава, Правда Ярославичей, «Устав» Владимира Мономаха.
- В) Миндовг, Гедимин, Ольгерд, Витовт.
- Г) Даниил Александрович, Юрий Данилович, Иван Данилович.

Ответ.

- А) Древнерусские князья 2✓
- Б) составители Русской Правды 2✓
- В) штовские князья 2✓
- Г) московские князья 2✓

11. Вставьте пропущенные буквы в термины и соотнесите их с понятиями. Ответ запишите в таблицу. По 0,5 баллу за правильно написанное слово. По 1 баллу за правильное соответствие. Всего 9 баллов.

- А) ИНДУЛЬЕНЦЯ
- Б) БАЩНА
- В) КУРЛТАЙ
- Г) КУРФКРСТЫ
- Д) ПАРЛАМЕНТ
- Е) МЕТРОПОЛИТ

1. В Священной Римской империи — семь духовных и светских правителей, за которыми с XIII века было закреплено право избрания императора.
2. Собрание представителей разных сословий, орган сословно-представительной монархии.
3. Трудовая повинность зависимых крестьян, которая выражалась в их труде с помощью собственного инвентаря в хозяйстве феодала.
4. Глава крупного церковного округа, второй после патриарха титул высшего церковного чина в православной церкви.
5. В католической церкви освобождение от временного наказания (кары) за грехи, в которых грешник уже покался и вина за которые уже прощена в таинстве исповеди.
6. Съезд всех монгольских и тюркских князей и знати, орган народного представительства.


Ответы:

- A) Индийские +
- B) Барбариса +
- B) Куршитаи +
- Г) Куршитаи +
- Д) Барбариса +
- E) Индийские -

А	Б	В	Г	Д	Е
5	3	6	1	2	4

8,5

12. Рассмотрите схему и ответьте на вопросы. Запишите ответ. По 2 балла за каждую позицию. Всего 8 баллов.



Укажите:

- 1) Название сражения Лядовое побоище 2/
- 2) Дату 05.04.1242г. 2/
- 3) Участников войско Александра Невского и крестоносцы 2/
- 4) Результат разгром крестоносцев 2/

8,5

13. Установите соответствие: названия церквей и соборов и их фотографии.

По 2 балла за каждый правильный ответ. Всего 8 баллов.

- 1. Успенский собор во Владимире.
- 2. Церковь Спаса на Нередице под Новгородом.
- 3. Церковь Покрова на Нерли.
- 4. Дмитриевский собор во Владимире.

A)



B)



B)



Г)



Ответ:

1	2	3	4
В	Б	Г	А

Рекомендуемое время – 90 минут.

85

745

ВСЕРОССИЙСКАЯ ОЛИМПИАДА ШКОЛЬНИКОВ ПО ИСТОРИИ

2024–2025 уч. г.

ШКОЛЬНЫЙ ЭТАП. 8 класс

Всего баллов -65

Время выполнения- 120 минут

Долматова Анна 8Б

1. Укажите год смены князей на Киевском княжении, пропущенный в приведённом ряду.

882, 912, ..., 964.

- 944 • 945 • 941 • 947

o✓

2. Ниже приведён список земель в порядке их присоединения к Москве.

Выберите название земли, пропущенное в данном ряду.

Тверь, Псков, ..., Рязань.

- Новгород • Ярославль • Суздаль • Смоленск

o✓

3. Ниже приведены термины. Выберите те, которые относятся к социальному устройству Древнерусского государства.

- Закуп • Баскак • Огнищанин • Тиун • Мещанин • Помещик

38

4. Определите пропущенные в тексте названия, термины, имена, даты, обозначенные порядковыми номерами. При необходимости при порядковых номерах даются пояснения о характере требуемой вставки. «В (1) году скончался (2 – имя царя) последний правитель из династии Рюриковичей. Земским собором был избран брат жены царя – (3 – имя царя). Правление нового царя было непростым. Уже в первые годы его правления в стране разразился Великий голод, из-за которого даже пришлось временно восстановить (4 – термин) – крестьянам вернули возможность переходить от одного землевладельца к другому, которой они были лишены ещё в (5) году. Вскоре (4) был вновь отменён и восстановлены, и даже увеличены, (6 – термин). Всё это вызывало недовольство населения, в первую очередь крестьянства, вылившееся в восстание под предводительством (7 – имя). Восстание охватывало всё более обширные районы, но в итоге было подавлено посланными из (8 – населённый пункт) войсками, несмотря на то, что в ходе борьбы восставшим удалось убить царского воеводу. Вместе с тем по стране не прекращались слухи, что род Рюриковичей не прервался. В (9) году умер (3), ему недолго наследовал его сын (10 – имя), который тоже вскоре погиб. Началась целая череда самозванничества. Первый из самозванцев даже сумел стать новым царём, но погиб в результате восстания недовольного населения. Новый самозванец так и не смог захватить Москву, а его армия устроила лагерь в (11 – населённый пункт) пока окончательно не была разбита».

Вставка

Варианты для пропусков 1, 5, 9	Варианты для пропусков 2, 3, 7, 10	Варианты для пропусков 4, 6	Варианты для пропусков 8, 11
1581	Борис Годунов	Заповедные лета	Коломна
1591	Василий Шуйский	Урочные лета	Тушино
1598	Хлопок Косолап	Юрьев день	Новгород Северский
1603	Фёдор Иоаннович	крестоцеловальная запись	Москва
1605	Иван Болотников	Земский собор	Чернигов
1606	Фёдор Борисович	пожилое	Смоленск

Ответ:

Номер пропуска	Вставка
1	1598
2	Федор Иванович
3	Борис Годунов
4	Нерсис Гниб
5	1587
6	Урочные лета
7	Клепка
8	Москва
9	1605
10	Федор Борисович
11	Туминно

135

5. Внимательно рассмотрите карту и выполните представленные задания.



Выберите верные утверждения.

- Город, обозначенный на карте цифрой «2», был захвачен восставшими в результате похода отрядов Степана Разина.
- В результате одного из походов, обозначенных на карте зелёными стрелками, была разорена Москва.
- На карте обозначены все населённые пункты, где правили в IX веке призванные на Русь варяги.
- Территории, обозначенные на карте зелёным цветом, были присоединены к России по условиям Ям-Запольского мира.
- На карте обозначены системы оборонительных сооружений русского государства.
- Оранжевой линией ограничены территории, потерянные Россией в годы Смуты.
- На карте обозначена столица Великого княжества Литовского.
- На карте обозначен поход хана Ахмата на Москву.
- Территориальные приобретения России, отображённые на карте прерывистой оранжевой линией, произошли в правление Ивана IV.
- Во главе похода на город, обозначенный на карте цифрой «1», стоял русский царь.

6. Выберите из представленных схем те, на которых отражены события, произошедшие:

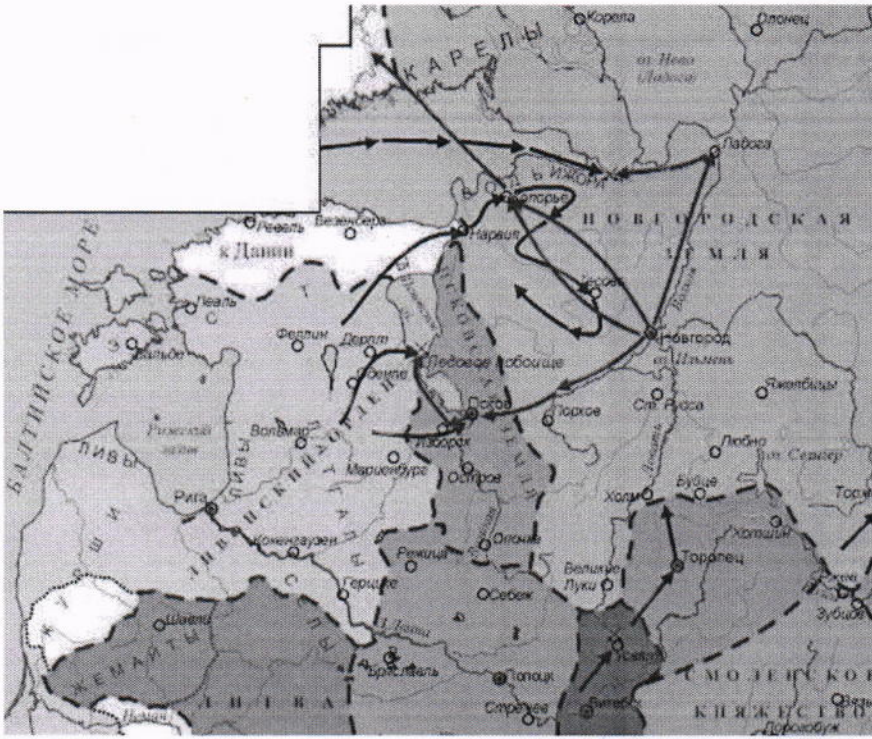
А) на век раньше событий, отображённых на карте.

21

Б) на век позже событий, отображённых на карте.

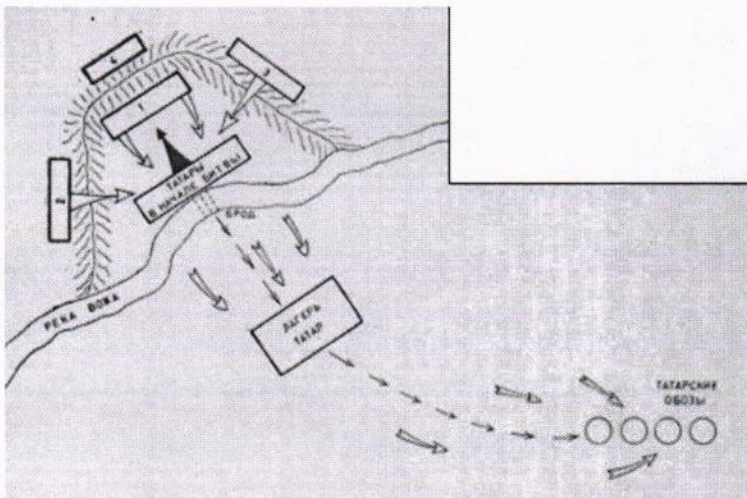
В) в том же веке, что и события, отображённые на карте.

1



A

2



B

3



B



5



7. Рассмотрите представленные фотографии. Выберите те, которые посвящены событиям Великой Отечественной войны.



1



2



3



4



5



6




7



8



9



10



35

8. Определите пропущенные в таблице описания событий истории России, их названия, годы, когда они происходили, и события из всеобщей истории, произошедшие в то же десятилетие. Обратите внимание на то, что среди предлагаемых вставок есть «лишние» элементы.

Источник по российской истории	Событие	Год	Событие из всемирной истории (в то же десятилетие)
(А)	Соляной Бунт	1648	(Б)
Да мне ж, холопу твоему, дано при царе Василье за царя Борисову службу за рану, как меня ранили под Кромами во ноги, сто чети, как стояли под Кромами з боярином с Федором с Ывановичем Шереметевым. Да меня же, государь, царь Василей пожаловал за службу, как побили его в Коломенском, и за сеунч, как пригонял я отца своево с Резани, как взяли Зарайской город и Резань добила челом царю Василью	(В)	(Г)	Пороховой заговор
(Д)	Восстание Кондратия Булавина	(Е)	Объединение Англии и Шотландии
Мятежники толпою вышли из Серпуховских ворот. Их было около 4 или 5 тысяч, без оружия, лишь у некоторых имелись дубины и палки. Они притязали на возмещение [убытков] за медные деньги, соль и многое другое. Когда чернь собралась, иные пошли грабить дом гостя или старосты по имени Василий Шорин, но большинство отправились в Коломенское, где, пока Его Величество пребывал в церкви, они домогались у бояр и придворных обращения к царю.	(Ж)	1662	(З)

Варианты для вставки

(А)

• «И того числа была смута великая на Москве и били челом великому государю всем народом посадския и всяких чинов люди во всяких налогах и в разоренье на Левонтья Степанова сына Плещеева. А боярин Борис Иванович Морозов да окольничей Пётр Тиханович Траханиотов за него стали. И как государь пошёл от праздника и за ним, государем, пришли на ево, государев, двор всяких чинов посадския люди всем народом и всех приказов стрельцы и били челом великому государю з большим невежеством».

• «От Астрахани до столицы на протяжении почти двухсот миль образовалась, почитай, пустыня из-за этого мятежа. Истреблено четыреста тысяч человек, особенно крестьян. Недавно Франц Вольф с 15 тысячами человек был разгромлен под Симбирском и сам был [уже мёртвым] повешен за ноги. На место _____, выданного кумом, поставлен взамен Пашковский, бывший в прошлом товарищем его милости пана Чарнецкого».

• «Ноября в 4 день в приход лейб-гвардии маора князя Василья Володимировича Долгорукова великого государя с ратными людьми, с конными и пехотными полками под Решетовым, во время приступу у воров у Микитки Голова с товарищи в воровском их собрании 5 знамён, которые знамёна они, воры, взяли на розгроме полковника Билса, две пушки медные, которые взяли они ж, воры, на розгроме Сумского полковника, да их воровских казацких 16 бунчуков и значков, и те вышепомянутые знамёна отданы по прежнему в тот же Билсов полк. А пушки по имянному великого государя указу взяты на Воронеж к морскому карабельному флоту».

(Б)

- Строительство Версальского дворца при Людовике XIV
- Третий раздел Речи Посполитой

- Вестфальский мир
- Бостонское чаепитие

25

(В)

- Медный бунт
- Восстание Емельяна Пугачёва
- Восстание Степана Разина

25

- Восстание Ивана Болотникова

(Г)

- 1606–1607
- 1637–1642
- 1670–1671
- 1707–1708

25

(Д)

• «И того числа была смута великая на Москве и били челом великому государю всем народом посадския и всяких чинов люди во всяких налогах и в разоренье на Левонтья Степанова сына Плещеева. А боярин Борис Иванович Морозов да окольничей Пётр Тиханович Траханиотов за него стали. И как государь пошёл от праздника и за ним, государем, пришли на ево, государев, двор всяких чинов посадския люди всем народом и всех приказов стрельцы и били челом великому государю з большим невежеством».

• «От Астрахани до столицы на протяжении почти двухсот миль образовалась, почитай, пустыня из-за этого мятежа. Истреблено четыреста тысяч человек, особенно крестьян. Недавно Франц Вольф с 15 тысячами человек был разгромлен под Симбирском и сам был [уже мёртвым] повешен за ноги. На место ____, выданного кумом, поставлен взамен Пашковский, бывший в прошлом товарищем его милости пана Чарнецкого».

- «Ноября в 4 день в приход лейб-гвардии маеора князя Василья Володимировича Долгорукова великого государя с ратными людьми, с конными и пехотными полками под Решетовым, во время приступу у воров у Микитки Голова с товарищи в воровском их собрании 5 знамён, которые знамёна они, воры, взяли на розгроме полковника Билса, две пушки медные, которые взяли они ж, воры, на розгроме Сумского полковника, да их воровских казацких 16 бунчуков и значков, и те вышепомянутые знамёна отданы по прежнему в тот же Билсов полк. А пушки по имянному великого государя указу взяты на Воронеж к морскому карабельному флоту».

25

(Е)

- 1606–1607
- 1637–1642
- 1670–1671
- 1707–1708

25

(Ж)

- Медный бунт
- Восстание Емельяна Пугачёва
- Восстание Степана Разина
- Восстание Ивана Болотникова

25

(З)

- Строительство Версальского дворца при Людовике XIV
- Третий раздел Речи Посполитой
- Вестфальский мир
- Бостонское чаепитие

25

9. Установите соответствие между фрагментами исторических источников и их краткими характеристиками: к каждому фрагменту, обозначенному буквой, подберите по три соответствующие характеристики.

Обратите внимание на то, что среди приведённых характеристик есть «лишние».

Фрагменты источников

А. «В 20 день сего Октября, по совету в Сенате обще с Синодом, намерение восприято, Его Величество, в показание своего должного благодарения за высокую Его милость и Отеческое попечение и старание, которое Он о благополучии Государства во всё время Своего славнейшего Государствования, и особливо во время прошедшей Шведской войны явить изволил, и Всероссийское Государство в такое

сильное и доброе состояние, и народ Свой подданной в такую славу у всего света чрез единое токмо Своё руководство привёл, как то всем довольно известно, именем всего народа Российского просить, дабы изволил принять, по примеру других, от них титуло: Отца Отечества, Императора Всероссийского».

Б. «Шведский король вышел из Саксонии со всеми своими полками. Он оставил в Польше для поддержания Станислава, им коронованного, 20 000 войска (в том числе 9000 новоприбывшего из Швеции) под начальством генерала графа Крассау; а сам пошёл к Днепру, переправился через него, несмотря на все препятствия, и приблизился к самой Полтаве, где его царское величество остановился и укреплялся, предав огню и разорению собственную землю, дабы отнять у неприятеля способы к пропитанию.

Вся Европа видела конец несчастного похода и падение короля, дотоле непобедимого. Войско его было уничтожено или захвачено в плен. Его совет, чиновники, за ним последовавшие, имели ту же участь; сам король, дабы не попасться в руки своим врагам, пробился с тремястами конных в турецкую землю, за Днестр, в соседство буджацких татар и искал убежища в Бендерах».

В. «Да ты же, великий государь, собрал собор, в них же председатели быша Паисей, папа и патриарх александрский, Макарий, антиохийский патриарх, и со иными митрополиты и архиепископы, и епископы, и с рускими властями. И егда позван я на собор, и ты, великий государь, подходя ко мне, говорил: “Мы, де, тебя позвали на честь, а ты, де, шумишь”. И я тебе, великому государю, говорил, чтобы ты, великий государь, мою грамоту на соборе том не велел чести, а переговорил бы ты, великий государь, наедине, и я бы всё сделал по твоей, великого государя, воле. И ты, государь, так не изволил, и я поневоле против своих писанных слов говорил тебе, государю, прекословно и досадно, и в том прощения же прошу».

Формулировки проблем:

- 1) Вид исторического источника – государственный акт.
- 2) Приведённый фрагмент источника является отрывком из летописи.
- 3) Источник, фрагмент которого приведён, представляет собой личные записки очевидца событий.
- 4) Приведённый источник является фрагментом из переписки.
- 5) Автор источника, фрагмент которого приведён, с одной стороны, извиняется перед государем, к которому обращается, с другой – указывает государю на неправильность отдельных его действий.
- 6) В источнике говорится, что он был составлен совместно с высшим духовным учреждением Российской империи.
- 7) Автором приведённого источника является Пётр I.
- 8) В источнике упоминаются события, произошедшие после подписания Ништадского мирного договора.
- 9) Автор даёт негативную характеристику правителю, обвиняя его в слабости и трусости.
- 10) В тексте упоминаются обстоятельства одного из крупнейших сражений Северной войны.
- 11) Автор источника находится в споре с правителем, к которому обращается.
- 12) Шведский король, о котором идёт речь в тексте, – Карл XII.

Ответ:

А			Б			В		
2	8	6	9	10	12	3	5	11

Максимум за работу – 65 баллов.

38

00

**ВСЕРОССИЙСКАЯ ОЛИМПИАДА ШКОЛЬНИКОВ
ПО ИСТОРИИ. ШКОЛЬНЫЙ ЭТАП в 2024-2025 учебном году.
ЗАДАНИЯ 9 КЛАСС.**

Время на выполнение заданий – 90 минут.

Общая сумма баллов – 100

Задание 1. (1 балл за каждый верный ответ. Максимальный балл – 3)

Выберите и запишите правильный ответ в таблицу.

1.1. Прочитайте отрывок из исторического источника и укажите, кто автор представленного текста.

«Пути не знаю – куда идти мне из Индостана: на Ормуз пойти – из Ормуза на Хорасан пути нет, и на Чаготай пути нет, ни в Багдад пути нет, ни на Бахрейн пути нет, ни на Йезд пути нет, ни в Аравию пути нет. Повсюду усобица князей повыбивала. <...> А в Индостане жить – значит издержаться совсем, потому что тут у них всё дорого: один я человек, а на харч по два с половиной алтына в день идёт, хотя ни вина я не пивал, ни сыты...»

- 1) Афанасий Никитин
- 2) Аристотель Фьораванти
- 3) Симеон Полоцкий
- 4) Ермолай-Еразм

1.2. Прочитайте отрывок из литературного произведения и укажите годы правления государя, события правления которого представлены в отрывке.

«В застенке Трубецкого рavelина
Пытает царь царевича – и кровь
Засеченного льёт по кнутовищу...»

Стрелец в Москве у плахи говорит:

"Посторонись-ка, царь, моё здесь место".

Народ уж знает свычаи царей

И свой удел в строительстве империй». (М. Волошин)

- 1) 1547–1584
- 2) 1645–1676
- 3) 1676–1682
- 4) 1682–1725

1.3. Кто из названных исторических деятелей возглавлял оборону Смоленской крепости в годы Смутного времени?

- 1) М.Б. Шеин
- 2) В.И. Шуйский
- 3) М.В. Скопин-Шуйский
- 4) Авраамий Палицын

1.1	1.2	1.3
4	4	2

Задание 2.

Выберите несколько верных ответов. Ответы внесите в таблицу. (1 балл за каждый верный ответ. Максимальный балл – 8)

2.1. Ниже приведён список названий государств. Укажите те из них, которые существовали в Европе к началу XVIII века.

- 1) Италия
- 2) Ливонский орден
- 3) Священная Римская империя
- 4) Дания
- 5) Германия
- 6) Речь Посполитая

2.2. Ниже приведён список названий крепостей. Укажите те из них, которые осаждались русскими войсками в XVII веке.

- 1) Чигирин
- 2) Анапа
- 3) Азов
- 4) Измаил
- 5) Смоленск
- 6) Казань

2.3. В состав великокняжеской дружины в ранний период истории восточных славян входили:

- 1) рядовичи
- 2) гриди
- 3) вирники
- 4) отроки
- 5) холопы

Задание 3. (2 балла за каждый правильный ответ. Максимальный балл – 8)

По какому принципу образованы ряды? Дайте краткий ответ.

3.1. 1601-1603 гг., 1606-1607 гг., 1670-1671 гг., 1707-1708 гг.

Народные восстания

25

3.2. К.В. Нессельроде, Н.К. Гирс, А. А. Безбородко, Г. И. Головкин.

05

3.3. Иов, Гермоген, Филарет, Иоаким.

патриархи

25

3.4. Фреска, миниатюра, мозаика, икона

иконопись, живопись

05

45

Задание 4. (2 балла за каждый верный ответ. Максимальный балл - 8).

Прочитайте утверждения и ответьте на них «да» или «нет». Свои ответы внесите в таблицу.

4.1.	В промышленности XVII века происходила специализация по районам и по видам изготавливаемой продукции.
4.2.	Ярмарки в XVII веке превращаются в центры всероссийских торговых связей.
4.3.	По Соборному уложению Земские соборы становятся законодательным органом власти
4.4.	Новые явления в культурной жизни России – придворный театр появился в период царствования Михаила Романова.

4.1	4.2	4.3	4.4
<u>да</u>	<u>да?</u>	<u>нет</u>	<u>нет</u>

85

Задание 5. (За каждый верно заполненный пропуск – 1 балл. Максимально за задание – 7 баллов)

Вставьте слова или словосочетания вместо пропусков, выбрав их из предложенного списка. Слова даны в списке в именительном падеже и в единственном числе. В таблице укажите соответствие между номером пропуска и буквенным обозначением соответствующего слова.

Обратите внимание:

- в тексте может изменяться форма данных слов (падеж, число);
- в списке слов и сочетаний слов больше, чем пропусков в тексте.

28 сентября 1708 г, у(1) _____ корпус (2) _____ был перехвачен и разбит "летучим отрядом", возглавляемым самим Петром. В результате сражения Карл XII лишился столь нужных ему подкреплений и обоза. Была подорвана уверенность шведов в их непобедимости, зато поднялся моральный дух русской армии. Петр назвал эту победу "матерью Полтавской баталии". Расчет Карла XII на усиление шведской армии в связи с переходом на ее сторону гетмана Украины (3) _____ не оправдался: только незначительная часть казачества, обманутая гетманом, перешла на сторону шведов.

Ранним утром 27 июня 1709 г. произошло решающее сражение между войсками Петра I и Карла XII под (4) К 11 часам русские войска полностью разгромили шведов. Показав чудеса храбрости, в ожесточенном рукопашном бою русская армия опрокинула шведов и обратила их в бегство. Из 30 тыс. шведских солдат 9 тыс. были убиты и 3 тыс. взяты в плен. Еще 16 тыс. шведов русские пленили в ходе преследования. Сам Карл XII вместе бежал в (5).

Полтавская победа, в результате которой были уничтожены сухопутные войска шведов, определила исход(6) войны. Она продемонстрировала возросшую мощь русской армии, укрепила международный авторитет России, на сторону которой вновь перешли Польша и (7) _____, а также Пруссия и Ганновер.

А-Гренгам, Б-Ливенгаупт, В-Реншельд, Г-Нарва, Д-Мазепа, Е-Хмельницкий, Ж- Семилетняя, З- Лесная, И- Польша, К-Полтава, Л-Отечественная, М- Турция, Н-Кунерсдорф, О- Англия, П- Выговский, Р- Северная, С- Дания

1.	2.	3.	4.	5.	6.	7.
<u>З</u>	<u>Е</u>	<u>А</u>	<u>К</u>	<u>М</u>	<u>Р</u>	<u>С</u>

65

Задание 6. (по 2 балла за каждое соответствие, максимальный балл - 8).

Соотнесите элементы правого и левого столбцов таблицы. В правом столбце есть лишняя характеристика. Запишите ответ в таблицу.

--	--

1) Куликовская битва	А. «И пришли татары, и начали в наших стрелять, а наши в них. И много дней они подступали и не могли перейти реку, и стояли, ожидая, когда замерзнет река»
2) Ликвидация Иваном III Новгородского самоуправления	Б. Сел Иван Данилович на великом княжении всея Руси, и была с тех пор тишина велика на 40 лет, и перестали поганые воевать Русскую землю и убивать христиан, и отдохнули христиане от великой истомы и многой тяжести от насилия татарского, и была с тех пор тишина велика по всей Русской земле»
3) Стояние на реке Угре	В. «Вечу во отчине нашей в Новгороде не бытии, а государство свое нам держати, как на Москве»
4) Правление Ивана Калиты	Г. «...Земля наша велика и обильна, а порядка в ней нет. Приходите княжить и владеть нами...» —
	Д. «Кони ржут на Москве, звенит слава по всей земле русской, трубы трубят на Коломне, бубны бьют в Серпухове, стоят стяги у Дона у великого на берегу»

1	2	3	4
Д	В	А	Б

85

Задание 7. (1 балл - за выделение лишнего, 2- за пояснение, максимальный балл - 6)

Что или кто является лишним в ряду? Подчеркните это слово и объясните почему.

1. Д. И. Фонвизин, Ф. С. Рокотов, Д. Г. Левицкий, В. Л. Боровиковский, И. П. Аргунов.

2. 1584 г., 1589 г., 1598 г., 1605 г., 1606 г., 1610 г.

3. Свод Законов Российской Империи, Соборное Уложение, Судебник, Изборник.

25
15
25

Задание 8. (За каждую верно указанную последовательность – 2 балла. При наличии одной ошибки (т.е. верная последовательность восстанавливается путем перестановки любых двух символов)– 1 балл. Максимально за задание – 4 баллов.)

Расположите в хронологическом порядке следующие события. Ответ занесите в таблицу.

8.1.

- А) Бироновщина
- Б) «Негласный комитет»
- В) Хованщина
- Г) Опричнина

1	2	3	4
Б	А	Г	В

05

8.2.

- 1 А) Рождение Ш. Марджани
- Б) Гибель А.С. Пушкина
- 3 В) Гибель М. Ю. Лермонтов
- Г) «Хождение в народ»

1	2	3	4
А	Б	В	Г


25

Задание 9. Рассмотрите изображение и выполните задание. (максимально 6 баллов)



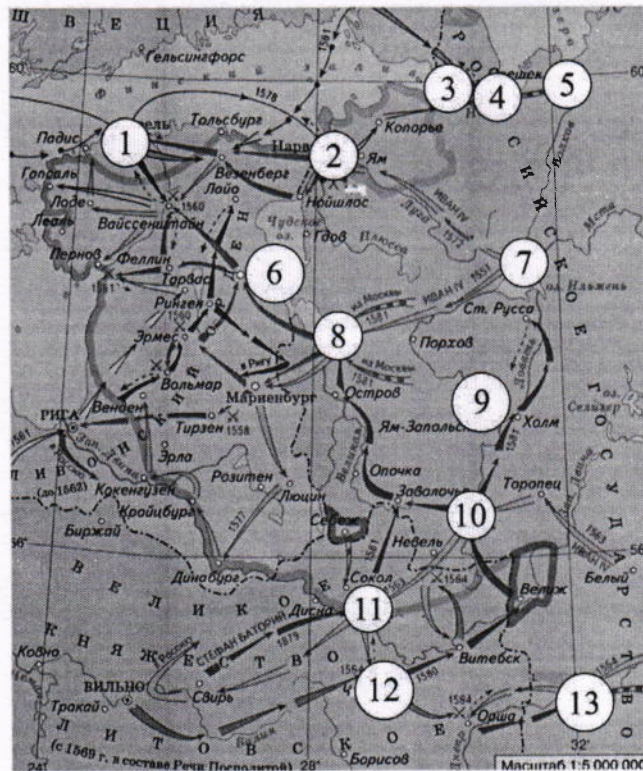
?

Какие из представленных ниже памятников архитектуры находятся в городе, основанном по повелению императора, которому посвящен памятник? В ответе запишите две цифры, под которыми они указаны.



ОТВЕТ 3, 4

Задание 10. Внимательно рассмотрите карту - схему и выполните предложенные задания.(6 баллов)



Заполните пропуски в предложениях. Ответы внесите в таблицу.

1. На схеме отображены события _____ войны. *Ливонская*
2. Цифрой 12 на схеме обозначено место, где произошло наиболее тяжёлое поражение русских войск в войне, события которой обозначены на схеме.

3. Цифрой 6 на схеме обозначен город, невыплата дани за который послужила поводом к началу войны.
4. Цифрой 8 обозначен русский город, выдержавший длительную осаду в годы войны, события которой обозначены на схеме, однако не сдавшийся врагу.
5. Цифрой 2 обозначен город, в походе на который в ходе войны, события которой обозначены на схеме, участвовал лично русский монарх.
6. Напротив города, обозначенного цифрой 11, была построена крепость в период правления деда российского правителя, при котором велась война, события которой обозначены на схеме.

Задание 11. Какое здание осталось не восстановленным со времен Сталинградской битвы в Волгограде? Почему? (5 баллов – 2 балла за правильное название здания, 3 балла – объяснение)

ОТВЕТ Мельница Тельаргта? СССР...?

Задание 12. Укажите век, к которому относятся описанные в отрывке события. Назовите династию русских царей, один из представителей которой упомянут в данном отрывке. (6 баллов)

Из сочинения историка.

«Смутное время было закончено с большими территориальными потерями для Руси. Смоленск был утрачен на долгие десятилетия, западная и значительная часть восточной Карелии захвачены шведами. Для восстановления утраченных в годы Смуты международных позиций Россия на протяжении всего века вела войны как с европейскими государствами (Речью Посполитой, Швецией), так и со странами Востока (Крымским ханством и Турцией), что во многом способствовало усилению западного влияния на внутреннюю жизнь страны.

Россия уже была одной из самых больших стран мира, но всё ещё отставала по темпам развития экономики от западноевропейских стран. Осознание необходимости изменений в жизни страны подталкивало к изучению и внедрению лучших сторон европейского опыта. На русскую службу начали приглашаться иностранные специалисты. Они были необходимы для того, чтобы помочь использовать европейский опыт, как при подготовке к войнам, так и для организации производства. Так, на основе западноевропейских образцов при Алексее Михайловиче был принят первый в русской армии воинский устав. Организовать в Москве производство оружия (пушечный завод) и построить первый русский военный корабль «Орёл» помогали голландские специалисты. Уже в середине века в Москве проживало около 1,5 тысяч западноевропейцев. Иностранцы в Москве жили по своим обычаям, для чего была создана Немецкая слобода — «Кукуй»».

Век 16
Династия Романовы

Задание 13. Эссе. Максимальная оценка 25 баллов.

При написании работы постарайтесь исходить из того, что Жюри, оценивая Ваше эссе, будет руководствоваться следующими критериями:

1. Обоснованность выбора темы (объяснение выбора темы и задач, которые ставит перед собой в своей работе участник). Оценивается вводная часть к работе - не более 5 баллов. Требуется внятное оригинальное объяснение, демонстрирующее заинтересованность в теме (2 балла), и четкая постановка задач работы, исходя из понимания смысла высказывания (должно быть сформулировано 4 задачи) (3 балла).

2. Оценка основной части к работе (макс. 15 баллов):

При оценке каждой из выделенных задач учитываются:

1) грамотность использования исторических фактов и терминов (4 балла);

2) аргументированность авторской позиции (4 балла).

3) творческий характер восприятия темы, ее осмысления. Требуется ярко выраженная личная позиция, заинтересованность в теме, оригинальные (имеющие право на существование, исходя из фактов и историографии) мысли, задачи и пути их решения (3 балла). Работа написана хорошим литературным языком с учетом всех жанровых особенностей эссе (2 балла).

4) знание различных точек зрения по избранному вопросу (2 балла).

3. Умение автора делать конкретные выводы по сути своей позиции, исходя из смысла высказывания и задач, сформулированных во введении, осмысление развития своей личной позиции. Оценивается заключение к работе – не более 5 баллов.

Темы эссе

1. «При Ярославе Мудром (1019-1054) Киевская Русь достигла вершины своего могущества» (Н.С. Борисов).
2. «Александр Невский был, выражаясь по-современному, «прагматиком»: он выбирал тот путь, который казался ему выгодней для укрепления его земли и для него лично. Когда это был решительный бой, он давал бой; когда наиболее полезным казалось соглашение с одним из врагов Руси, он шел на соглашение» (А. Горский).
3. Куликовская битва относится к числу событий самых значительных для исторического сознания и самоидентификации русского человека» (И.Н. Данилевский).
4. «Иван III есть герой не только российской, но и всемирной истории... При нем Россия, как держава независимая, величественно возвысила главу свою на пределах Европы и Азии, спокойная внутри и не боясь врагов внешних» (Н.М. Карамзин).
5. «Увы, Смутное время оказалось временем утраченных возможностей, когда не осуществились те альтернативы, которые сулили более благоприятный для страны ход событий» (В.Б. Кобрин).
6. «В закреплении крестьян и оформлении системы крепостного права в России, в отличие от Западной Европы..., ведущую роль сыграло государство... Прикрепление крестьян к земле и к личности землевладельца позволили государству сконцентрировать за счет эксплуатации крепостных значительные... ресурсы, использовавшиеся для содержания госаппарата, вооруженных сил, активной и наступательной внешней политики, содержания светских и духовных феодалов» (В.Б. Перхавко).
7. «Бессмысленно спорить, нужны или не нужны были России реформы Петра: они содержали то единственное лекарство, которое только и могло ее спасти» (А. Каменский).
8. «Последовавшие после смерти Петра Великого события не были вызваны только указом о престолонаследии. Перевороты XVIII века были сложным социально-политическим явлением, прямо связанным не с одним указом 1722 г., а с развитием общественного сознания как следствия петровских реформ» (А.Б. Каменский).

„Бессмысленно спорить, нужны или не нужны были России реформы Петра: они содержали то единственное лекарство, которое только и могло ее спасти“ (А. Каменский).

Если вспомнить время правления Петра I то можно сказать, что он сделал огромный вклад в народ, в армию, в духовную культуру.

Благодаря реформам в образовании: население России к 18 веку стало более образованным, если сравнивать с прошлыми веками. Петр I также внес табель рангов, что помогло некоторым людям из низших слоев подняться хотя бы в средний или даже до дворянского титула.

При Петре I стало уделяться внимание кораблестроению и вообще всей армии, что способствовало в победе над шведами в 1709г.

Также были реформы в культуре, Россия стала равнять уровень духовности европейских стран.

Вообще, можно много перечислять реформ, проведенных Петром I, но можно одно сказать, именно он поднял с колен Россию и смог поднять на достойный, показав, что наша страна сильна и велика.

Петр Великий сделал многое для народа, что и считается лекарством для нашей страны.

185

415